

نام و نام خانوادگی:

به نام خالق بی همتا

آزمون نیمسال دوم ۱۴۰۰-۱۳۹۹

درس: ریاضی پنجم

دبستان دخترانه دین و دانش

پیامبر اکرم (ص): صبح و شب در کار تعلیم علم به سر بردن، نزد خدا از جهاد بهتر است.

۱- هر یک از عددهای زیر را به رقم و به حروف بنویسید.

الف) پنج میلیون و سی و سه هزار و دو: .....

ب) ۹۶۴۵۲۳۶۰۰۵۶: .....

۲- الگوی زیر را تا جمله هشتم ادامه دهید.

..... و ..... و ..... و ۱۰ و ۶ و ۳ و ۱

۳- کلاس ریاضی زهرا ساعت ۳۰:۳۳:۹ شروع و ساعت ۲۱:۱۵:۱۲ به پایان رسید. کلاس ریاضی زهرا چه مدت طول کشیده است؟

۴- کسر بزرگتر از واحد را به عدد مخلوط و عدد مخلوط را به کسر تبدیل کنید.

$$1\frac{2}{5} = \frac{19}{7} =$$

۵- حاصل ضرب و تقسیم های زیر را به دست آورید.

$$\frac{2}{7} \times \frac{3}{11} = \quad 12 \times \frac{2}{3} =$$

$$\frac{1}{5} \div \frac{2}{7} = \quad 3 \div \frac{1}{6} =$$

۶- اگر  $\frac{1}{3}$  لیتر آب سرد را با  $\frac{1}{4}$  لیتر آب گرم مخلوط کنیم، روی هم چند لیتر آب خواهیم داشت؟

۷- محیط مستطیلی ۱۶۰ و نسبت طول به عرض آن ۷ به ۳ است. طول و عرض و مساحت مستطیل را به دست بیاورید.

۸- در جاهای خالی عدد مناسب بنویسید تا یک تناسب ایجاد شود.

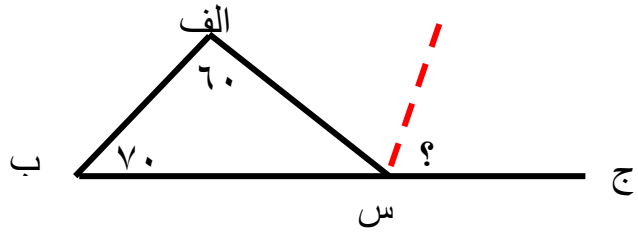
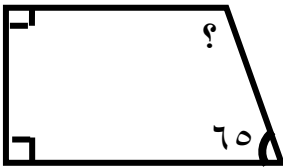
$$\frac{15}{25} = \frac{\square}{100}$$

$$\frac{15}{18} = \frac{5}{\square}$$

۹- ۴۰٪ یک عدد ۲۴۰ است. آن عدد را پیدا کنید.

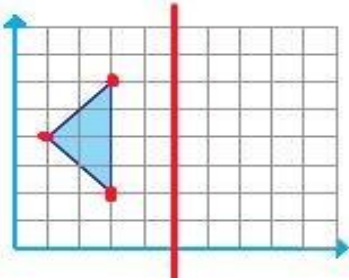
۱۰- اگر ۶۰٪ از یک محلول، آب باشد. در ۲۵ لیتر از این محلول چند لیتر آب وجود دارد؟

۱۱- در شکل های زیر اندازه زاویه خواسته شده را به دست آورید.



خط چین نیمساز زاویه "الف س ج" است.

۱۲- قرینه شکل روبرو را رسم کنید.

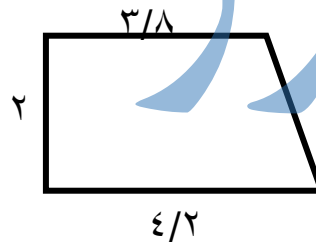
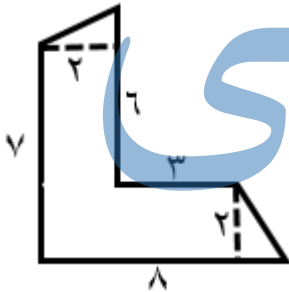


۱۳- جمع و تفریق های زیر را انجام دهید.

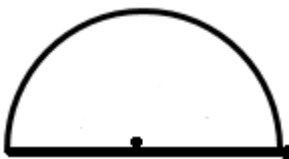
$$۱۴/۲۵۵ + ۰/۷۳ =$$

$$۳/۷۶ - ۲/۳ =$$

۱۴- مساحت شکل های روبرو را به دست آورید.

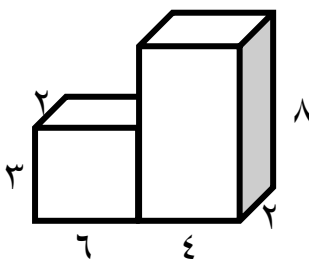


۱۵- محیط شکل روبرو را به دست آورید.



شعاع = ۱۰

۱۶- حجم شکل زیر را به دست آورید.



۱۷- جاهای خالی را با پاسخ مناسب پر کنید.

الف) ۵۶۴۹ سی سی برابر است با ..... لیتر.

ب) ۳۵ لیتر برابر است با ..... سی سی.

۱۸- میانگین اعداد داده شده را به دست آورید.

۱۰۵ - ۴۹۱ - ۱۶۲ - ۷۹۲ - ۵۵۰

۱۹- بازی های عادلانه را مشخص کنید و در بازی های ناعادلانه بگویید احتمال برد کدام یک بیشتر است؟

الف) سکه را می اندازیم اگر رو بیاید بازیکن اول برنده است و اگر پشت بیاید بازیکن دوم.

ب) تاس را می اندازیم اگر اعداد ۵ و ۶ ظاهر شود بازیکن اول برنده است و در غیر این صورت بازیکن دوم.

۲۰- برای جدول داده های زیر یک نمودار ستونی رسم کنید. نام محور های افقی و عمودی را بنویسید.

هدیه های آسمانی	مطالعات	فارسی	علوم	ریاضی	درس
۲۰	۱۷	۱۶	۱۹	۱۷	نمره

# جزوه سیپی

موفق و سربلند باشید